

## MATHS CE2

① Effectue ces soustractions.

$\begin{array}{r} 479 \\ - 235 \\ \hline \end{array}$	$\begin{array}{r} 763 \\ - 241 \\ \hline \end{array}$	$\begin{array}{r} 652 \\ - 418 \\ \hline \end{array}$
---	---	---

② Résous ces deux problèmes.

◆ Elsa avait 358 autocollants de joueurs de football. Elle en offre 86 à Thomas.

Combien lui en reste-t-il ?




◆ Un parking peut contenir 640 voitures. 277 places sont occupées.

Combien de places sont encore disponibles ?




• Problèmes de partage :

recherche en faisant des schémas

28 oiseaux sont répartis dans des cages en groupes de 4.


**Combien faut-il de cages ?**


La maîtresse a 24 bonbons. Elle fait des paquets de 6 bonbons.

**Combien de paquets va-t-elle pouvoir faire ?**


Julia partage un paquet de 30 biscuits entre 4 enfants.  
Combien de biscuits chaque enfant recevra-t-il ?

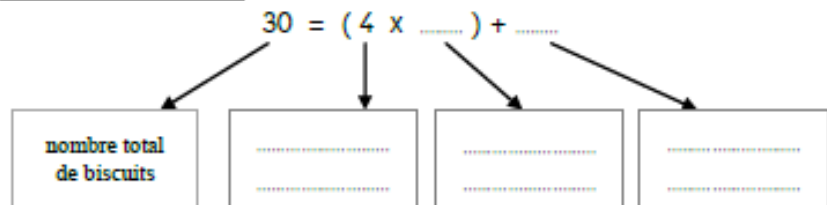


 Fais un schéma pour montrer la situation.

 Complète la phrase :

Chaque enfant recevra ..... biscuits et il en restera .....

 Complète cette égalité, puis indique avec une flèche ce que signifie chacun des nombres :



- **Géométrie( la symétrie)**  
Complète par symétrie

