

Rituel de la phrase.

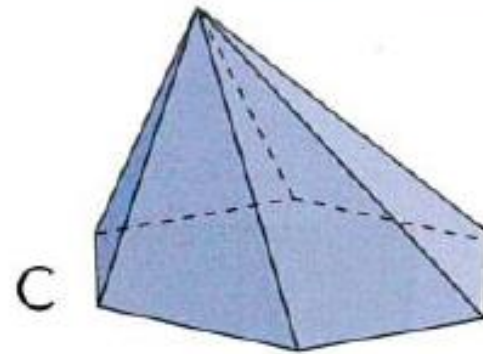
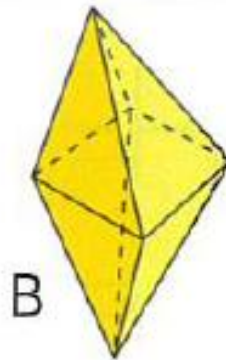
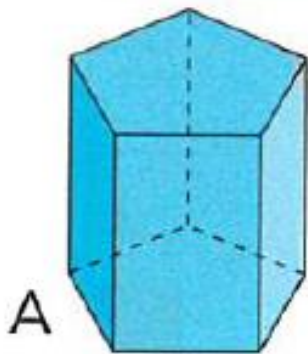
1) Après l'orage, les habitants attendent impatiemment le rétablissement de l'électricité. (COD: le rétablissement de l'électricité)

2) Après : adverbe – l' : article défini – orage : nom commun – les: article défini – habitants : nom commun – attendent : verbe – impatiemment : adverbe – le : article défini – rétablissement : nom commun – de : préposition – l' : article défini – électricité : nom commun

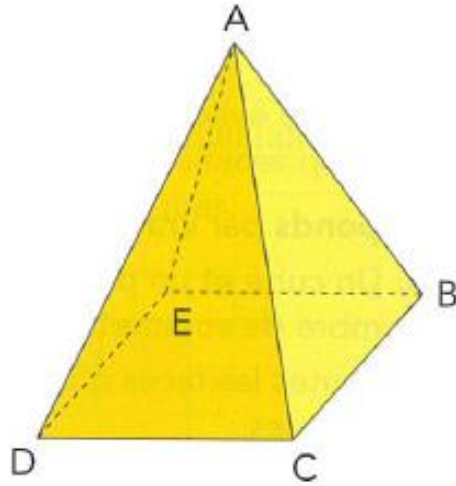
3) Après l'orage, les habitants n'attendent pas le rétablissement de l'électricité.

6 * Reproduis et complète le tableau.

	A	B	C
Nombre de sommets	10	6	7
Nombre d'arêtes	15	12	12
Nombre de faces	7	8	7
Faces polygonales	oui	oui	oui
Polyèdre	oui	oui	oui



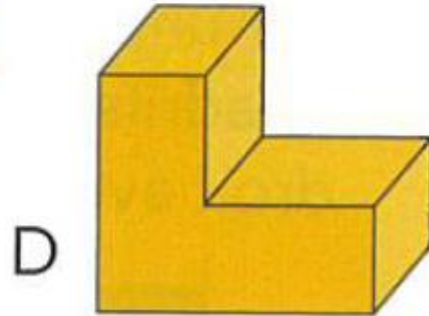
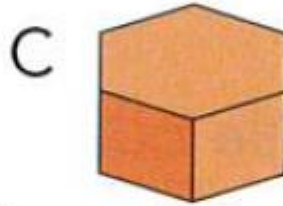
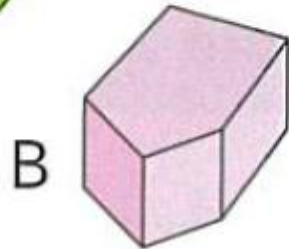
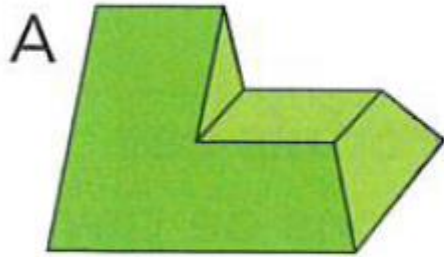
8 ** Observe ce solide, puis **recopie** et **complète** les phrases.



- a. Toutes mes ... sont des polygones.
Je suis donc un
- b. J'ai 5 ... et 5
- c. Le point B est un ... du solide.
- d. Le segment [AB] est une ... du solide.
- e. Le quadrilatère BCDE est une ... du solide, c'est un
- f. ABC, AEB, ADE et ACD sont aussi des ... du solide, ce sont des
- g. Le nom de ce solide est une

- a) Toutes mes faces sont des polygones donc je suis un polyèdre.
- b) J'ai 5 sommets et 5 faces.
- c) Le point B est un sommet du solide.
- d) Le segment AB est une arête du solide.
- e) Le quadrilatère BCDE est une face du solide c'est un carré.
- f) ABC, AEB, ADE et ACD sont aussi des faces du solide, ce sont des triangles.
- g) Le nom de ce solide est une pyramide (à base carré.)

7 ** Combien de faces ont ces polyèdres ?
N'oublie pas les faces cachées !



- A) 7 faces
- B) 7 faces
- C) 8 faces
- D) 8 faces

Calcul mental

a) 3h 10 min = 190 min

1 semaine et 5 jours = 12 jours

b) 2 heures et demie = 150 min

2 jours et 2h = 50 heures

c) 4 min et 12 sec = 252 sec

65 sec = 1 min et 5 sec

d) 50h = 2 jours et 2 h

72 h = 3 jours

2 min et 30 sec = 150 sec

4h et 50 min = 290 min

trois quart d'heure = 45 min

un quart d'heure = 15 min

4 semaines et 3 jours = 27 jours

22 jours = 3 semaines et 1 jour

137 min = 2h 17 min

1 semaine et 6 jours = 13 jours

59 Effectue les conversions.

a) 3 h et 10 min = ... min

1 semaine et 5 jours = ... j

b) 2 heures et demie = ... min

2 j et 2 h = ... h

c) 4 min et 12 s = ... s

65 s = ... min et ... s

d) 50 h = ... j et ... h

72 h = ... j

2 min et 30 s = ... s

4 h et 50 min = ... min

trois quarts d'heure = ... min

un quart d'heure = ... min

4 semaines et 3 jours = ... j

22 j = ... semaines et ... j

137 min = ... h et ... min

1 semaine et 6 jours = ... j

60 Pour chaque couple, indique uniquement la durée la plus longue.

(4 h – 250 min)

(1 h 05 min – 63 min)

(148 s – 2 min)

(5 semaines – 31 j)

(1 min 35 s – 85 s)

(3 min – 200 s)

2) Récris cette phrase au passé simple à la troisième personne du singulier puis du pluriel.

Elle déjeune, attrape son sac, quitte la maison et va à l'école.

Elle déjeuna, attrapa son sac, quitta la maison et alla à l'école.

Elles déjeunèrent, attrapèrent leur sac, quittèrent la maison et allèrent à l'école.

4) Récris chaque phrase au passé simple.

- a) Le loup dévora le Petit Chaperon Rouge.
- b) Les enfants quittèrent la maison de la sorcière.
- c) Elle porta un pot de beurre à ma grand-mère.
- d) Ils enfermèrent la sorcière dans le four.
- e) Le Petit Poucet sauva ses frères de l'ogre.
- f) Cendrillon alla au bal.
- g) Le Chat Botté transforma l'ogre en souris et se jeta sur l'animal.

6) Récris le texte au pluriel.

Un jour, ils montèrent dans le train et ils allèrent à Paris. Là, ils visitèrent des musées. Ils montèrent à la Tour Eiffel. Ils admirèrent Paris du haut de l'Arc de Triomphe. Ils photographièrent les plus beaux monuments de la ville.