

Rituel de la phrase.

Voir le document « Rituel de la phrase » fais les consignes 4 et 5 pour la phrase 14.

Dictée flash  
(liste 26)

Utilise le fichier audio ou demande à un quelqu'un de te dicter la ou les phrase(s).

« Ce nouveau sport se propage très rapidement pour devenir une véritable passion : le plaisir de la glisse. »

Géométrie


Lis les leçons G8 et G9 dans ton porte-vue bleu.

Tu peux également regarder les vidéos suivantes :

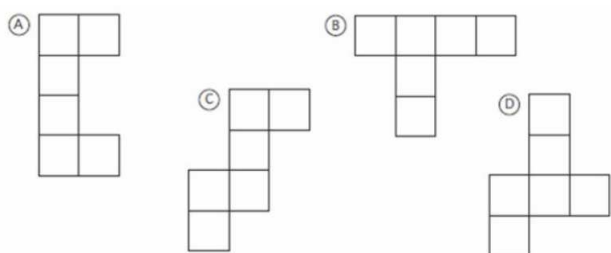
<https://lesfondamentaux.reseau-canope.fr/discipline/mathematiques/solides/paves-droits/tracer-un-patron-de-pave-droit.html>

<https://lesfondamentaux.reseau-canope.fr/discipline/mathematiques/solides/cubes/tracer-un-patron-de-cube.html>

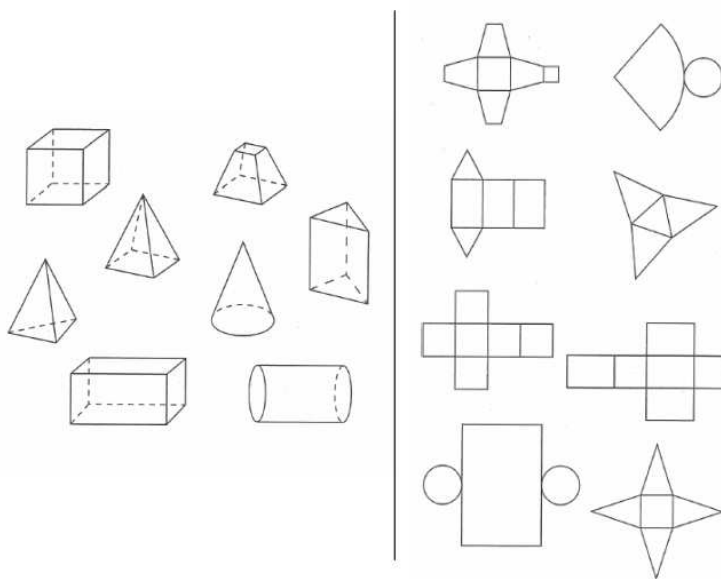
Puis fais les exercices 1, 2 et 5



1. Quels sont les patrons du cube ? (Fabrique les pour vérifier)

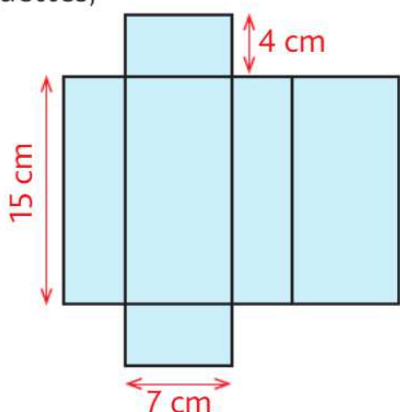


2. Relie chaque solide avec le patron qui lui correspond.



**5** \* a. Reproduis ce patron.

b. Place des languettes, découpe, puis construis le pavé droit.



**Soustraire des décimaux inférieurs à 10**



**Entraînement n° 3** ⇒ ..... bonnes réponses

- 3,9 - 1,2 = .....    4,5 - 0,4 = .....    5,89 - 1,11 = .....
- 5,4 - 1,2 = .....    3,86 - 2,13 = .....    3,56 - 1,12 = .....
- 7,2 - 5,1 = .....    3,15 - 1,08 = .....    6,8 - 1,3 = .....
- 7,5 - 2,1 = .....    4,12 - 0,04 = .....    9,6 - 8,1 = .....
- 3,84 - 2,04 = .....    8,06 - 2,01 = .....    6,2 - 2,2 = .....
- 2,68 - 1,62 = .....    8,5 - 8,2 = .....    3,12 - 1,02 = .....

Au lancer du poids, Zaky a fait un premier jet de 4,56 m, et un second de 1,12 m de moins. *À quelle distance est allé le second jet de Zaky ?*

⇒ Le second jet de Zaky est allé à ..... m.

Lecture

Lire les chapitres 3 et 4 de la partie 1 de « Verte » (page 4 à 6).

J'ajoute également le fichier dans la partie médiathèque de « toutemonnée » le fichier comporte beaucoup de pages mais il n'est pas nécessaire de l'imprimer.

Vocabulaire

Fais le jeu avec l'alphabet Braille.


Puis regarde la vidéo suivante :

<https://lesfondamentaux.reseau-canope.fr/discipline/langue-francaise/vocabulaire/les-relations-de-sens-entre-les-mots/les-registres-de-langue.html>

Jeu

Avec l'alphabet Braille

1. Observe l'alphabet Braille et écris les 3 noms, les 3 verbes et les 3 adjectifs codés avec cet alphabet.



Trois noms synonymes :

• • • • • .....  
 • • • • • .....  
 • • • • • .....

Trois verbes synonymes :


• • • • • .....  
 • • • • • .....  
 • • • • • .....

Trois adjectifs synonymes :

• • • • • .....  
 • • • • • .....  
 • • • • • .....

2. Recopie les mots découverts dans la colonne qui convient.

Langage familier	Langage courant	Langage soutenu
.....	.....	.....
.....	.....	.....
.....	.....	.....



# Géographie CM2

Je vous propose de regarder les vidéos suivantes (ces vidéos ont juste pour objectif d'élargir la culture générale des élèves. Il n'y aura pas de leçon sur ce thème) :

<https://www.lumni.fr/video/chypre-visite-de-l-ile-avec-scooby-doo#containerType=program&containerSlug=scooby-doo-en-europe-a-la-decouverte-des-pays-de-l-union-europeenne>

<https://www.lumni.fr/video/malte-scooby-doo-part-en-voyage#containerType=program&containerSlug=scooby-doo-en-europe-a-la-decouverte-des-pays-de-l-union-europeenne>

Vous pouvez ensuite aller faire les exercices sur le site <https://classe-numerique.fr/>

Les exercices sont sur le plan de travail Géographie CM2.

Pour rappel, pour vous connecter vous devez aller sur le site <https://classe-numerique.fr/> cliquer sur « élèves » puis sur « connexion nouveau site ».

L'identifiant : CE2-CM2 école Saint Joseph, le mot de passe : HarryPotter.

Dans la partie « groupe » il faut sélectionner « CM2 » puis dans la partie « élèves » vous trouverez votre prénom. Vous devrez ensuite choisir un code personnel. (Si vous oubliez ce code, envoyez-moi un message, je pourrais vous le redonner).

Ensuite, vous devez aller tout en bas de la page pour trouver les exercices de géographie.

Voici les QR code des vidéos :



Chypre



Malte