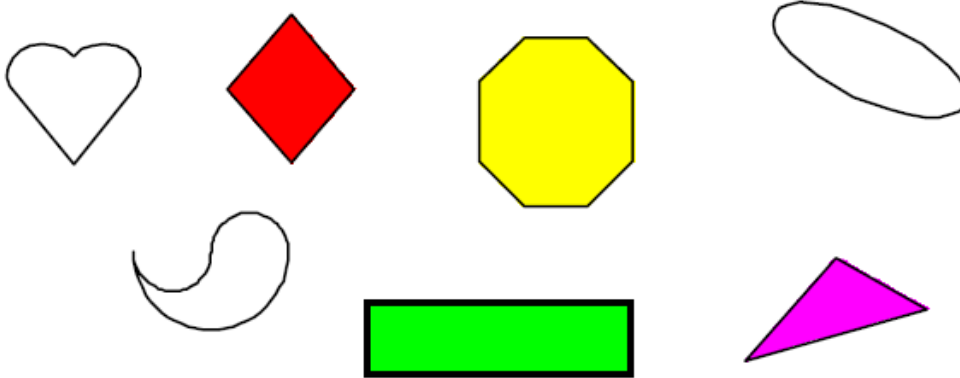
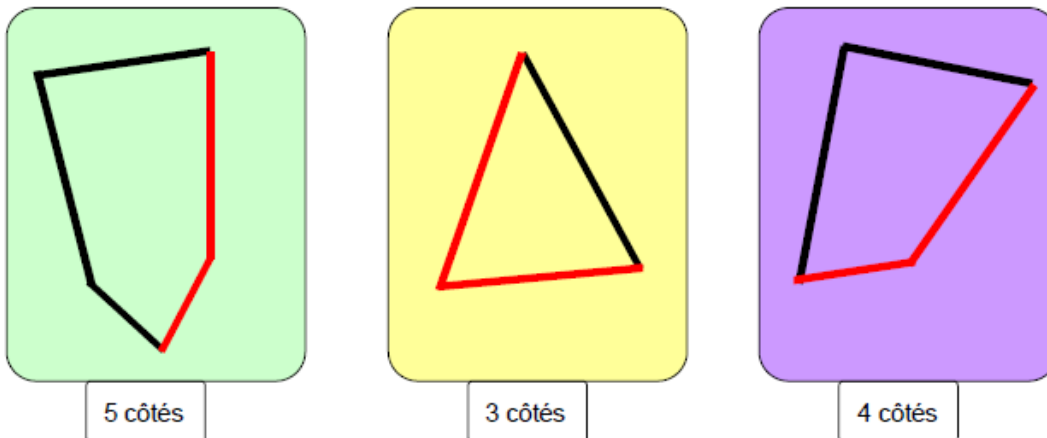


LES POLYGONES
SOLUTION

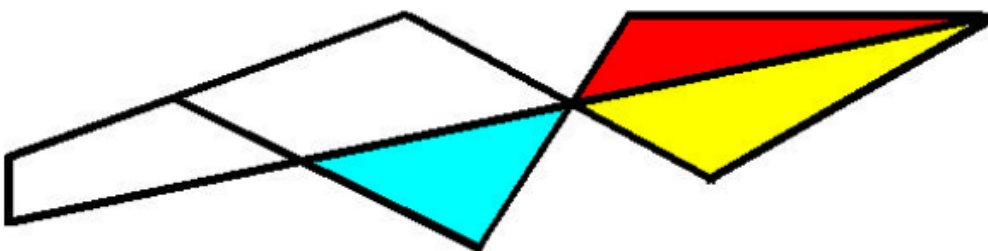
1) Colorie les figures qui sont des polygones.



2) Complète chaque figure pour obtenir un polygone avec le nombre de côtés demandés. **Plusieurs solutions possibles**



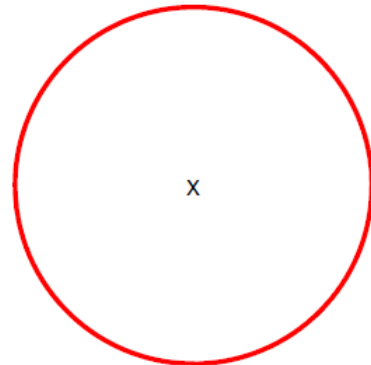

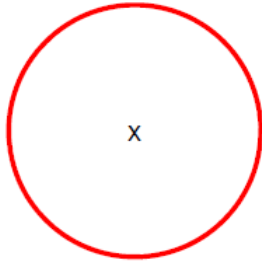
3) Colorie toutes les figures qui ont 3 côtés.



Comment appelle-t-on les polygones à 3 côtés ? **les triangles**

LE CERCLE
CORRECTION

1) Termine les cercles dont on a commencé les tracés.



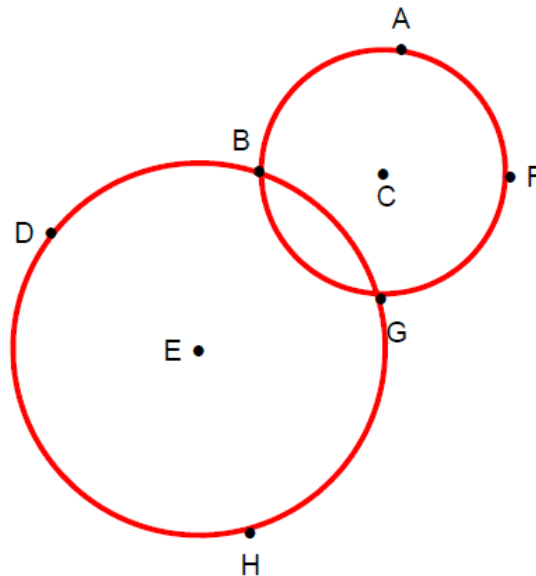
2) Utilise les points ci-dessous pour tracer les cercles demandés.

- * Trace un cercle de centre E et de rayon ED.

Écris tous les points qui sont sur ce cercle : **D, B, G et H**

- * Trace un cercle de centre C et de diamètre FB.

Écris tous les points qui sont sur les deux cercles : **B et G**



3) Continue la frise.

