

Rituel de la phrase.

Voir le document « Rituel de la phrase » fais les consignes 1, 2 et 3 pour la phrase 5.

Dictée flash

Utilise le fichier audio ou demande à un quelqu'un de te dicter la phrase.

« Le tiers état, représentant tous les Français des villes et des campagnes, veut changer la société alors que les nobles veulent garder leurs privilèges. »

Grandeurs et mesures

Lis la leçon suivante, puis fais les exercices 2 et 6, l'exercice 11 est en bonus.

**J'APPRENDS**

- La **surface** est l'intérieur d'une figure. L'aire est la mesure de cette surface.
- Le **périmètre** est la mesure du contour d'une figure. On mesure le périmètre avec les mesures de longueur.

**J'AI COMPRIS**

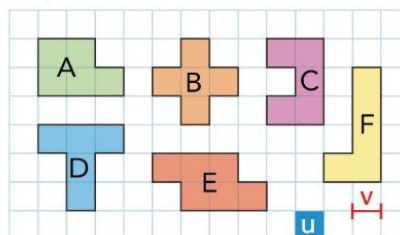
Des figures qui n'ont pas la même forme peuvent avoir la même aire et le même périmètre.

Des figures qui ont la même aire n'ont pas obligatoirement le même périmètre.

Des figures qui ont le même périmètre n'ont pas obligatoirement la même aire.

Figure A Aire : 3 u P : 8 v	Figure B Aire : 3 u P : 8 v	Figure C Aire : 4 u P : 8 v	Figure D Aire : 4 u P : 10 v	Figure E Aire : 4 u P : 8 v	Figure F Aire : 3 u P : 8 v
-----------------------------------	-----------------------------------	-----------------------------------	------------------------------------	-----------------------------------	-----------------------------------

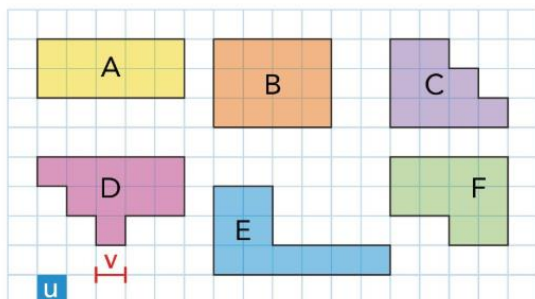
2 a. Toutes ces figures ont la même aire, sauf une. Laquelle ?



b. Calcule le périmètre des figures ci-dessus.

c. 4 figures ont le même périmètre. Lesquelles ?

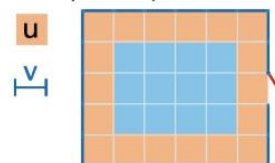
6 Trouve les figures qui ont la même aire et le même périmètre.



11 \*\* Le père de Manon pave le tour de la piscine de dalles carrées et installe une barrière bleue.

Calcule le nombre de dalles u que le père de Manon a posées.

Calcule, en unités v, la longueur de la barrière bleue.



Calcul mental

**Soustraire 9, 19, 29, 39**



Entraînement n° 2 ⇒ ..... bonnes réponses

66 - 19 = .....	208 - 9 = .....	145 - 39 = .....
331 - 29 = .....	224 - 19 = .....	784 - 9 = .....
603 - 39 = .....	261 - 29 = .....	807 - 19 = .....
25 - 9 = .....	457 - 39 = .....	685 - 29 = .....
495 - 19 = .....	211 - 9 = .....	561 - 39 = .....
385 - 29 = .....	58 - 19 = .....	448 - 9 = .....

Le livre que lit Nurçin compte 29 pages de moins que son livre précédent, qui en avait 107. Combien de pages compte le livre de Nurçin ?

⇒ Le livre de Nurçin compte ..... pages.

## Conjugaison

Relis les leçons C7 et C8 dans ton porte-vue rouge.

Puis, fais les exercices suivants sur un cahier. Tu peux faire deux exercices sur les trois proposés. N'oublie pas, on copie la matière en noir, ainsi que la consigne.

### ② Complète avec le pronom personnel qui convient.

..... mangeaient à la cantine tous les jours.

À quelle heure faisiez-..... la vaisselle ?

..... allions chercher l'eau au puits.

..... n'était pas très en colère.

..... voyiez les lettres à l'envers.

..... devaient apprendre leurs tables.

### ③ Transpose les verbes au présent à l'imparfait.

Nous défaisons → .....

Nous mugissons → .....

Béa et moi nageons → .....

Nous crions → .....

Nous balayons → .....

### ④ Conjugue les verbes entre parenthèses à l'imparfait.

Les deux enfants (venir) après l'école.

.....

Il (avoir) mal aux dents.

.....

Les étoiles (étinceler) dans la nuit.

.....

Les pompiers (éteindre) le feu sans difficulté.

.....