

Mardi 9 juin

Dictée flash ce1 :

Pendant les vacances, tu **vas** à la montagne **ou** à la campagne. Tu ramasses **souvent** des champignons à l'automne. Tu places ta récolte **dans** un panier.

La liste de mots qui suit servira pour la semaine prochaine.

[ʏ] / (ui)

12 mots : 5 + 7

de l'huile
la cuisine
poursuivre

la suite
ensuite
puis

la nuit
un fruit
du bruit

la pluie
aujourd'hui
je suis

Phrase du jour :

L'après-midi, les élèves jouent au basket dans la grande salle. Ils lancent et marquent des beaux paniers.

- Souligne les verbes en rouge et les groupes sujet en bleu
- Transforme les phrases à l'imparfait.
- Transforme les phrases au passé composé

grammaire : le genre et le nombre

Donne le genre de chaque groupe nominal masculin ou féminin

L'hiver : _____ l'éclair : _____

L'exploit : _____ l'hélice : _____

L'horloge : _____ l'outil : _____

L'orange : _____ l'oreille : _____

L'ampoule : _____ l'allumette : _____

Fais une croix dans les bonnes cases

	masculin	féminin	singulier	pluriel
des fleurs				
un cadeau				
la pâtisserie				
des cubes				
mon amie				

Entoure le bon mot (attention au genre et au nombre)

Dans cette tous les élèves vont à la piscine.

- maisons
- classe
- groupe

Jacques a de yeux bleus

- belle
- beau
- beaux

Calcul mental :


Allez à <https://matheros.fr/identification/?redirect=/eleve/> voici les nouveaux identifiant et mot de passe :

Identifiant : classelydie

Mot de passe : classelydie

Les élèves ont besoin du code 1003.

MATHEMATIQUES :

 Complète le tableau de décomposition du nombre 1 000.

1 000	
900 +	400 +
800 +	300 +
700 +	200 +
600 +	100 +
500 +	

•

 Complète avec le signe $<$, $>$ ou $=$.

$883 \underline{\hspace{1cm}} 698$

$907 \underline{\hspace{1cm}} 817$

$845 \underline{\hspace{1cm}} 902$


$695 \underline{\hspace{1cm}} 700 + 56$

$900 + 30 + 7 \underline{\hspace{1cm}} 947$

$745 \underline{\hspace{1cm}} 40 + 5 + 800$

La moitié de 60 = <u> </u>	La moitié de 100 = <u> </u>	La moitié de 200 = <u> </u>
La moitié de 18 = <u> </u>	La moitié de 30 = <u> </u>	La moitié de 20 = <u> </u>
La moitié de 78 = <u> </u>	La moitié de 8 = <u> </u>	La moitié de 2 = <u> </u>
La moitié de 16 = <u> </u>	La moitié de de 138 = <u> </u>	La moitié de 222 = <u> </u>

Luc doit partager les bonbons à parts égales dans deux bols. Combien y aura-t-il de bonbons dans chaque bol ?




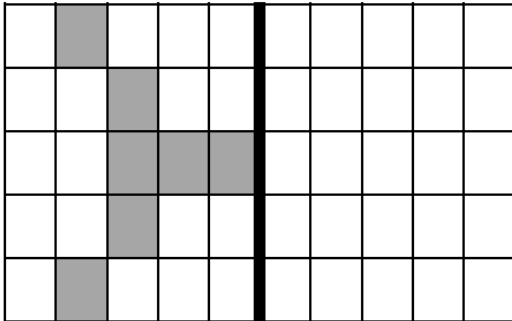
$24 = 2 \times \underline{\hspace{2cm}}$

Dans chaque bol, il v aura bonbons.

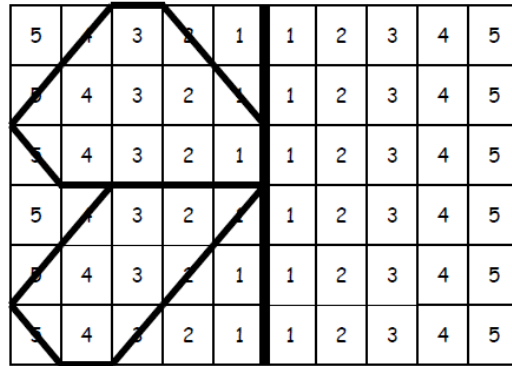
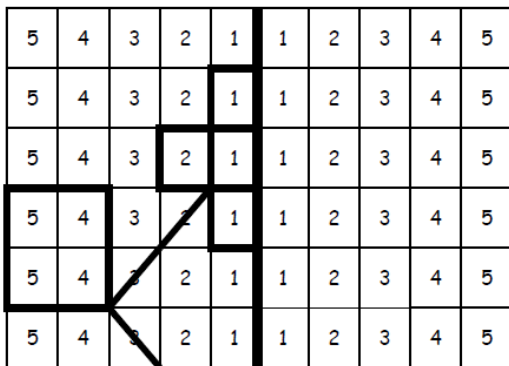
LA SYMETRIE



1 **Colorie** les dessins en symétrie,



2 **Trace** les dessins en symétrie



Lecture : lire à haute voix la page 1 de **Luerna**

LALILO: Laisser l'enfant travailler en totale autonomie pendant 15 minutes.

Anglais :

pour réviser les nombres

<https://www.youtube.com/watch?v=0VLxWIHRD4E>

l'alimentation :

<https://www.youtube.com/watch?v=NkQcg2ieVuM&feature=youtu.be>

avec un nouveau petit jeu

<https://learningapps.org/watch?v=puufet9t520>

Et une petite chanson sur les légumes :

<https://www.youtube.com/watch?v=RE5tvaveVak>

QUESTIONNER LE MONDE : l'antiquité (les gaulois)

<https://www.youtube.com/watch?v=lajCNUymdIE>