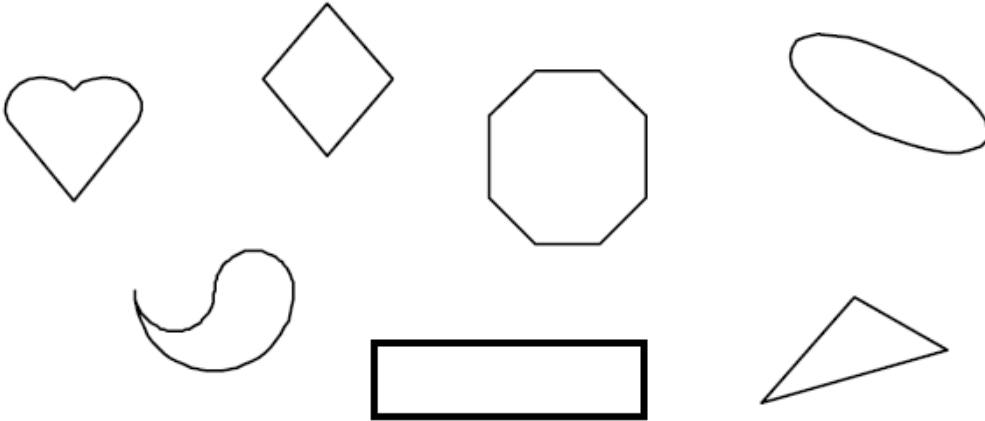
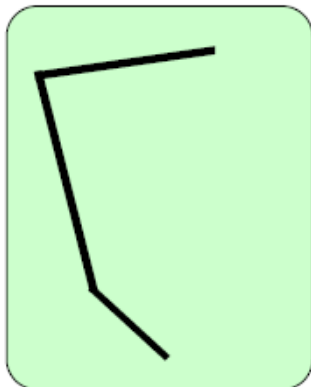


LES POLYGONES

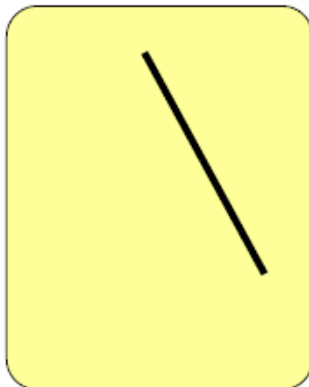
1) Colorie les figures qui sont des polygones.




2) Complète chaque figure pour obtenir un polygone avec le nombre de côtés demandés.



5 côtés

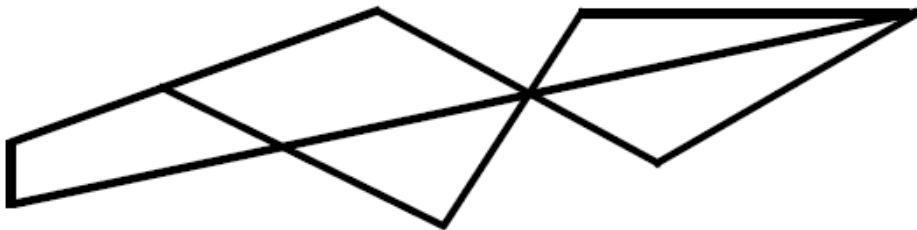


3 côtés



4 côtés

3) Colorie toutes les figures qui ont 3 côtés.



Comment appelle-t-on les polygones à 3 côtés ?

LE CERCLE

1) Termine les cercles dont on a commencé les tracés.



2) Utilise les points ci-dessous pour tracer les cercles demandés.

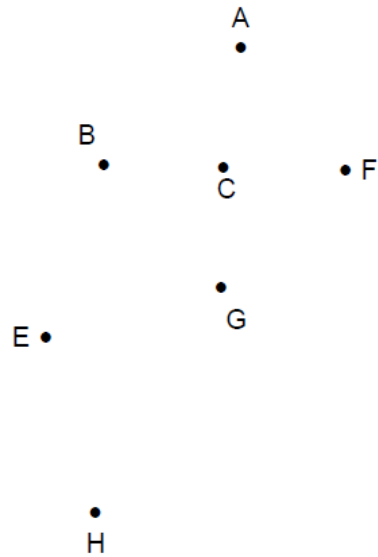
- * Trace un cercle de centre E et de rayon ED.

Écris tous les points qui sont sur ce cercle :

D •

- * Trace un cercle de centre C et de diamètre FB.

Écris tous les points qui sont sur les deux cercles :



3) Continue la frise.

